

令和5年度 入学試験問題

社 会

合図があるまで、問題用紙を開かずに下の注意をよく読みましょう。

〔注 意〕

1. この試験問題の解答時間は、理科と合わせて60分です。
2. 答えは、すべて解答用紙に書きなさい。
3. 合図があったら、解答用紙の決められた場所に受験番号・氏名を書きなさい。
4. この問題は14ページあります。ページの不足や乱れがあったら、声を出さずに手をあげなさい。
5. 印刷のはっきりしない所があったら、声を出さずに手をあげなさい。
6. 問題を読むのに声を出したり、音をたてたりしてはいけません。
7. 字数を数える場合は、数字や句読点、記号も1字として数えなさい。
8. 社会と理科の時間配分は自由です。どちらの教科から始めてもよいですが、時間内に終わるように工夫しなさい。

佐久長聖中学校

問題 1 長野県佐久市に住んでいる小学6年生のみわこさんは、夏休みの自由研究として、47都道府県の中から、これまでに家族旅行で訪れて特に印象的であった3つの県について調べて、カードⅠにまとめました。また、私たちの身のまわりの工業製品がどこでつくられているのかについても調べて、カードⅡにまとめました。次のカードⅠ・Ⅱを見て、あとの各問いに答えなさい。

カードⅠ

群馬県は、私たちが住む長野県と県境を接しており、両県の境には（ a ）という活火山が見られます。（ a ）の北側には「^{つまごい}孺恋村」という山に囲まれた高原の村があり、夏でも涼しい高原の気候を利用して、（ b ）などの高原野菜の栽培がとてもしかかに行われています。

秋田県は、北^{きた}隣^{となり}の青森県との県境に、「ぶな」の天然林で知られている世界自然遺産の白神山地が見られます。その一方で、白神山地に近い秋田県大館市や北秋田市では、人工林の秋田（ c ）を活用した^d林業がさかかに行われており、主に住宅用の木材として使われています。

熊本県は、熊本地震で大きな被害を受けて、現在修理が行われている「熊本城」が有名です。また、八代海に面した（ e ）市周辺では、^f四大公害病の一つである（ e ）病が発生して社会問題となりました。現在では、（ e ）市は環境にやさしい町づくりを進めています。

問1 カードⅠ中の（ a ）には、右の写真1 **写真1**に見られる山があてはまります。この山の名前として正しいものを、次のア～エから1つ選び、その記号を書きなさい。



〔ア 浅間山 イ 阿蘇山 ウ 御嶽山 エ 富士山〕

問2 右の表は、カードⅠ中の（ b ）にあてはまる農作物の収穫量上位5県をあらわしています。表を参考にして、（ b ）にあてはまる農作物を書きなさい。

表	県名	収穫量(t) (2021年度)
1	群馬県	292,000
2	愛知県	267,200
3	千葉県	119,900
4	茨城県	109,400
5	長野県	72,500

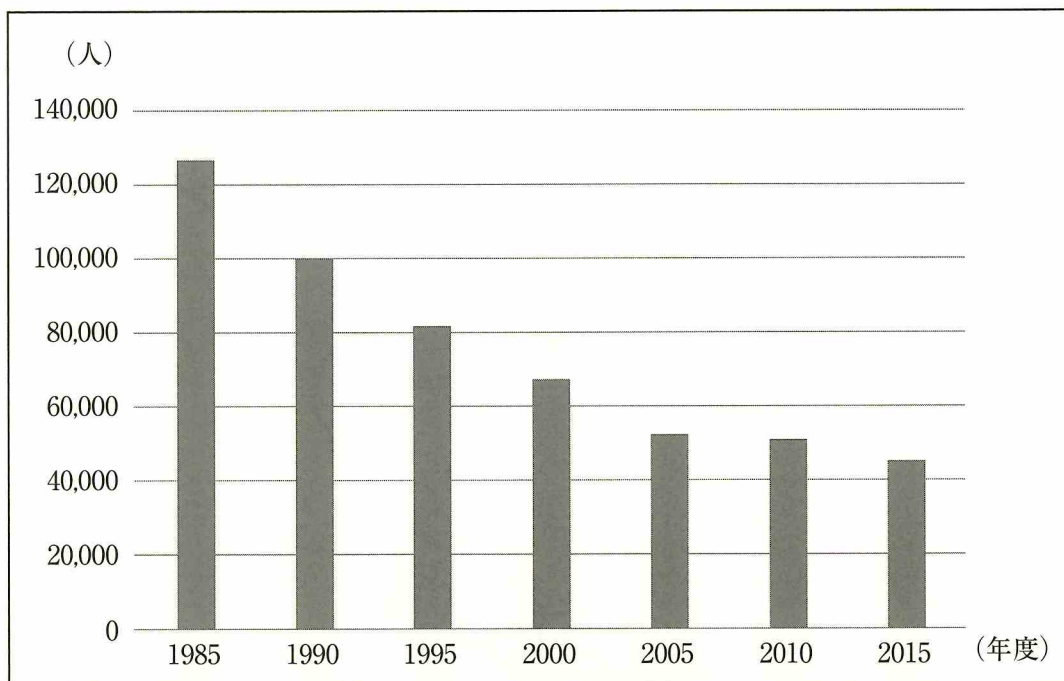
(農林水産省・農業生産に関する統計より作成)

問3 カードI中の(c)にあてはまる語句を、次のア～エから1つ選び、その記号を書きなさい。

〔ア まつ イ ひのき ウ ひば エ すぎ〕

問4 カードI中の下線部dについて、次の資料1は、日本の林業従事者数の推移をあらわしています。資料1から読み取れることとして最も適切なものを、下のア～エから1つ選び、その記号を書きなさい。

資料1 日本林業従事者数の推移



(農林水産省・林野庁統計情報より作成)

- 〔ア 日本の林業従事者数は、2000年以降ずっと6万人を下回っている。
イ 1985年の日本の林業従事者数は、2010年の3倍以上である。
ウ 日本の林業従事者数の減少のしかたは、2005年以降ゆるやかである。
エ 2015年の日本の林業従事者数は、1995年の2分の1以下である。〕

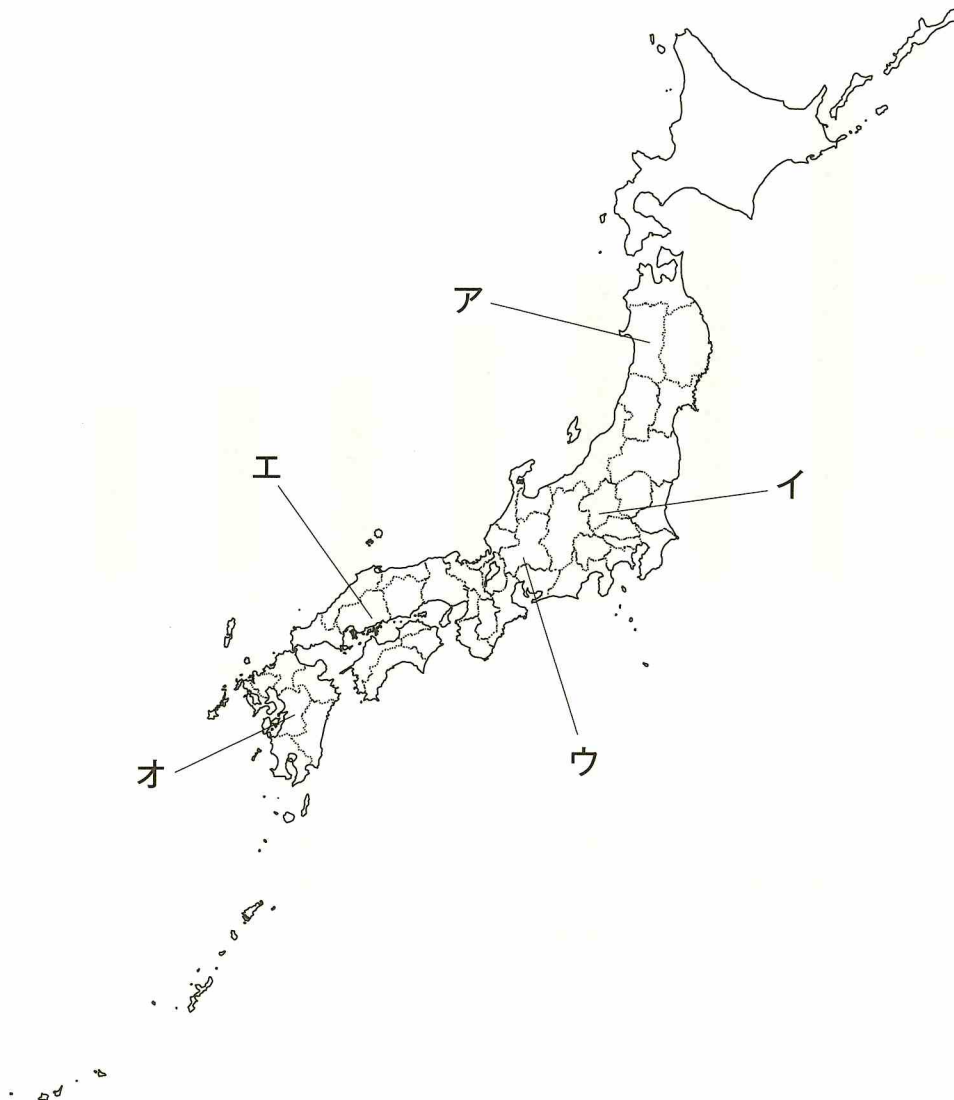
問5 カードI中の(e)にあてはまる都市の名前を書きなさい。

問6 カードI 中の下線部 f について，四大公害病とその発生した河川の組み合わせとして正しいものを，次のア～エから1つ選び，その記号を書きなさい。

- （ア イタイイタイ病—阿賀野川 イ イタイイタイ病—神通川）
（ウ 四日市ぜんそく—阿賀野川 エ 四日市ぜんそく—神通川）

問7 カードI 中の群馬県・秋田県・熊本県の位置を，次の地図中のア～オからそれぞれ選び，その記号を書きなさい。

地図



カードⅡ

身のまわりの工業製品がどこでつくられているのかについて調べてみると、日本各地にさまざまな工場があることに気づきました。

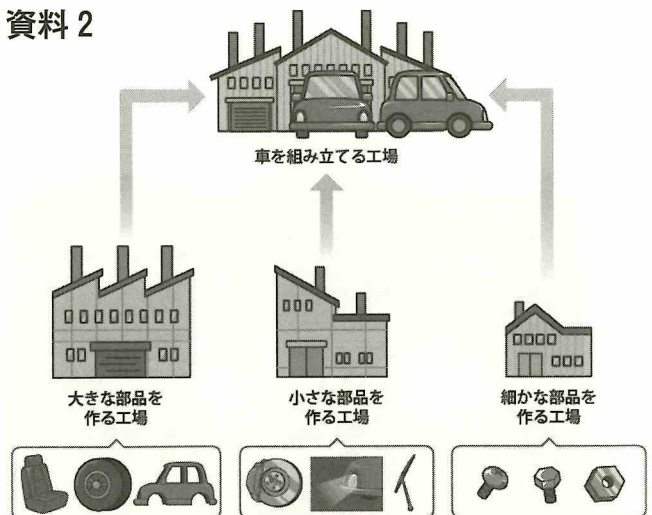
愛知県は、日本の（ g ）生産額が最も多い県で、豊田市とその周辺には（ g ）の組み立て工場や（ g ）のシート・ハンドル・ライトなどの h 部品をつくる工場が見られます。また、鉄をつくる製鉄所は、鉄をつくるのに必要な原料である（ i ）と、蒸し焼きにしてコークスになる前の（ j ）を輸入に頼っている^{たよ}ので、（ k ）に面した場所に多く見られます。同じく石油製品をつくる工場も、₁ 石油を輸入に頼っている^{たよ}ので、（ k ）に面した場所に多く見られます。

ちなみに、（ g ）をはじめとして鉄鋼などの高い技術に支えられた製品が、世界に多く輸出されています。特に、（ m ）・中国への輸出が多くなっています。

問8 カードⅡ中の（ g ）にあてはまる工業製品の名前を書きなさい。

問9 カードⅡ中の下線部 h について、右の資料2を参考にして、組み立て工場から注文を受けて部品をつくる工場と、その工場からさらに細かい部品の注文を受けて仕事をする工場をまとめて何というか、漢字4字で書きなさい。

資料2



問10 カードⅡ中の（ i ）と（ j ）にあてはまる資源の組み合わせとして正しいものを、次のア～エから1つ選び、その記号を書きなさい。

- | | | | | | |
|---|---|-------|------|-------|------|
| { | ア | （ i ） | —石炭 | （ j ） | —石灰石 |
| | イ | （ i ） | —石炭 | （ j ） | —鉄鉱石 |
| | ウ | （ i ） | —鉄鉱石 | （ j ） | —石灰石 |
| | エ | （ i ） | —鉄鉱石 | （ j ） | —石炭 |

問11 カードⅡ中の (k) にあてはまる語句を，次の写真2・写真3を参考にして漢字1字で書きなさい。

写真2





写真3




問12 カードⅡ中の下線部Ⅰについて，石油を運搬する船として正しいものを，次のア～エから1つ選び，その記号を書きなさい。

ア



イ



ウ



エ



問13 カードⅡ中の（ m ）にあてはまる国の名前を，次のヒントを参考にして書きなさい。

ヒント

- ①位置…北半球
- ②面積…約983万km²（世界第3位）
- ③人口…約3億3200万人（2021年）（世界第3位）

（外務省^{きそ}基礎データより作成）

問題 2

北澤さんのクラスでは、歴史の授業で各班が決めたテーマについて調べて、クラスで発表することになりました。北澤さんの班では「日本と外国とのつながり」をテーマとして、どのようにまとめるかを話し合いました。北澤さんの班の会話文を読んで、あとの各問いに答えなさい。

北澤さん：ぼくたちの班のテーマは「日本と外国とのつながり」に決定したけど、どうまとめたらいいかな？

今井さん：たとえば、1つの時代や国を決めてまとめてみるのはどうかな？

中村さん：時代なら江戸時代がいいんじゃないかな。a ヨーロッパの国との関係についてまとめられそうだよ。

岩崎さん：b 江戸幕府は、初代将軍のc 徳川家康のころは外国との貿易を保護していたけど、キリスト教信者が増えたり、キリスト教信者による一揆などもあって、d 3代将軍の時に鎖国をすることにしたんだよね。

藤田さん：私は、キリスト教を中心にまとめたらいいと思うな。キリスト教を禁止する動きを説明しながら、江戸時代の貿易相手をまとめてみたらどうかな。

矢野さん：それはいいかもしれないね。ただ、キリスト教を禁止する動きを説明するのなら、e 安土桃山時代にもふれておきたいな。

石坂さん：そうだね。最初はキリスト教を保護して、貿易をさかんにおこなったけど、その後はキリスト教を禁止する動きがみられたものね。

北澤さん：ぼくは、中国と日本の関係についてまとめてみたいんだよね。日本と中国は今も昔もかわりの深い国だからね。

今井さん：たしか、f 弥生時代には中国と交易をおこなっていたんだよね。その後も、活発に交易をおこなう時代もあったよね。

矢野さん：(あ)時代には、g 遣隋使を派遣して、中国の進んだ制度や学問を新しい国づくりにいかそうとしていたよね。

岩崎さん：隋の次の王朝の唐にも使者を派遣していたよね。たしか、h 平城京は唐の都にならってつくられたんだよね。

中村さん：(い)時代にも、i 平清盛が中国との貿易を進めたよね。大きな船が入れるように今の神戸に港を整備し、中国からは宋銭などを輸入したんだよね。

藤田さん：私は、倭寇と区別するため勘合符を使用した明との貿易が印象に残っているんだけど、あれって何時代だったけ？

石坂さん：たしか、3代将軍のj 足利義満の時に行われた貿易だから(う)時代だったよね。この貿易で日本から明に送った刀はとても人気があったって、先生が言ってたね。本当に、どんな時代においても関係が深い国といえそうだね。

北澤さん：k 尖閣諸島をめぐる問題や台湾問題など中国と日本の関係が心配されているよね。だからこそ、ぼくは中国と日本のつながりをまとめて発表したいな。

全員：賛成！

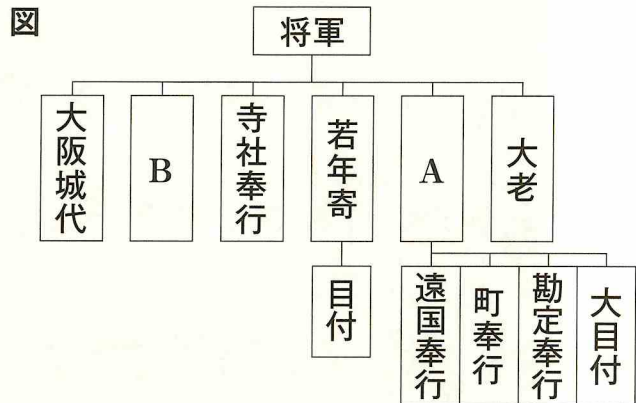
北澤さん：それじゃあ、ぼくたちの班は、「中国と日本のつながり」についてまとめて発表することにしよう。

問1 (あ)～(う)にあてはまる語句を書きなさい。

問2 下線部aについて、1543年に九州のある島に流れ着いた船に乗っていたポルトガル人によって、日本に鉄砲てっぽうが伝わりました。ポルトガル人が流れ着いた島を、次のア～エから1つ選び、その記号を書きなさい。

〔ア 沖ノ島おきのしま イ 屋久島やくしま ウ 奄美大島あまみおおしま エ 種子島たねがしま〕

問3 下線部bについて、右の図は江戸幕府のしくみをまとめたものです。この図を見て、あとの各問いに答えなさい。



- ① 図中のAには、将軍を補佐して、江戸幕府の政治全般ぜんぱんをとりしきる役職があてはまっています。この役職を何というか書きなさい。
- ② 図中のBには、朝廷ちやうていや西国の大名たちを監視する目的で置かれた役職があてはまっています。この役職を、次のア～エから1つ選び、その記号を書きなさい。

〔ア 京都所司代きょうとじしだい イ 六波羅探題ろくはらたんたい ウ 守護しゆご エ 侍所さむらいどころ〕


問4 下線部cについて、徳川家康やその後の江戸幕府初期の将軍たちが行った、大名の配置に関して書かれた次の文の(①)～(③)にあてはまる語句の組み合わせとして正しいものを、下のア～カから1つ選び、その記号を書きなさい。

幕府が安定して支配するために、江戸から近いところには、徳川家の親戚しんせきの(①)や古くからの徳川家の家来の(②)が多く配置されて、九州のように遠いところには(③)が多く配置されている。

- 〔ア ①—譜代ふだい ②—外様とぎま ③—親藩しんぱん イ ①—譜代 ②—親藩 ③—外様
 ウ ①—外様 ②—譜代 ③—親藩 エ ①—外様 ②—親藩 ③—譜代
 オ ①—親藩 ②—譜代 ③—外様 カ ①—親藩 ②—外様 ③—譜代〕

問5 下線部dについて、次の資料1は、3代将軍がさだめた制度の様子をえがいたものです。その制度を説明した文として正しいものを、下のア～エから1つ選び、その記号を書きなさい。

資料1



- ア 大名の多くを、3年交代で江戸と大名の領地を往復させ、その妻子は人質として江戸に住ませたものです。
- イ 関ヶ原の戦い後に徳川家に従った大名を、3年交代で江戸と大名の領地を往復させ、その妻子は人質として江戸に住ませたものです。
- ウ 大名の多くを、1年交代で江戸と大名の領地を往復させ、その妻子は人質として江戸に住ませたものです。
- エ 関ヶ原の戦い後に徳川家に従った大名を、1年交代で江戸と大名の領地を往復させ、その妻子は人質として江戸に住ませたものです。

問6 下線部eについて、次の資料2は安土桃山時代に行われたある政策です。資料2中の()にあてはまる語句を書きなさい。

資料2

() 令

一 諸国の百姓が、刀、やり、鉄砲などの武器をもつことを、かたく禁止する。武器をたくわえ、年貢を出ししづり、一揆をくわだてて領主に反抗する者は、厳しく処罰される。

一 取り上げた刀などは、京都に新しくつくる大仏のくぎにする。百姓は仏のめぐみを受けて、この世ばかりか、死んだ後も、救われるだろう。

問7 下線部 f について、弥生時代につくられたとされる遺跡を X・Y から選びなさい。
また、弥生時代の様子について書かれた文を A・B から選びなさい。その組み合わせとして正しいものを、下のア～エから1つ選び、その記号を書きなさい。

X 吉野ヶ里遺跡 Y 三内丸山遺跡

- (A 表面に縄目の文様がある土器を使っていた。
B 中国や朝鮮半島から伝わり、米づくりがおこなわれた。)

(ア X・A イ X・B ウ Y・A エ Y・B)

問8 下線部 g について、次の文は聖徳太子が遣隋使の小野妹子にたくした国書の一部です。この文の二重線 X・Y のうち、日本をあらわしているものはどちらか選びなさい。また、この文から読み取れる聖徳太子が考えていた隋との関係として適切なものを A・B から選びなさい。その組み合わせとして正しいものを、下のア～エから1つ選び、その記号を書きなさい。

X 日がのぼる国の天子、国書を Y 日がしずむ国の天子に届けます。

A 日本と隋が対等な関係 B 日本が隋を従える関係

(ア X・A イ X・B ウ Y・A エ Y・B)

問9 北澤さんの班は、「中国と日本のつながり」についてクラスで発表する際に、中国と日本が関わったできごとを紹介しました。次のア～オのできごとを、年代の古い順番に並びかえて、左から順にその記号を書きなさい。

- (ア 中国にならって、藤原京という日本で最初の本格的な都が、現在の奈良県につくられた。
イ 大和朝廷の大王が、「多くのくにを従えた」と書いた手紙を中国の皇帝に送った。
ウ 長崎に唐人(中国人)やしきがつくれ、役人や一部の商人などを除いては、出入りが禁止された。
エ 遣唐使が停止され、中国などの大陸文化の影響が少なくなると、しだいに日本人の生活や感情にあった国風文化が発展した。
オ 中国を征服するため、二度にわたって朝鮮に大軍を送り込んだものの、朝鮮の水軍に苦戦したため、朝鮮から撤退した。)

問題 3

次の会話文は、6年生のあるクラスで、社会科の時間に行われた話し合いの内容です。これを読んで、あとの各問いに答えなさい。

先生：去年（2022年）、日本や世界で起こったできごとのうち、憲法や選挙など政治に関係のあるものを思い出してみてください。その中で、みなさんはどんなことに興味を持ちましたか。だれからでもいいので発表してみてください。

Aさん：5月の終わりごろ、うちのお父さんとお母さんが話していたことなのですが、海外で生活している日本人は、最高裁判所の裁判官が裁判官として適任であるかどうかを判断することができないそうです。そのことが、国民の権利を侵害しているとして裁判に訴えたことに対して、最高裁判所は「海外の日本人が（①）の投票ができないのは憲法違反である」という判決を出したそうです。

先生：これは、最高裁判所裁判官の（①）の問題ですね。選挙と同じように国民の大事な権利が、最高裁判所によって、海外で生活している日本人に対しても認められたということです。このことは、日本国憲法の三つの原理とも関係ある内容ですね。Aさんの家庭ではそういう話し合いができていて素晴らしいですね。ほかにはどうですか。

Bさん：5月15日は、第二次世界大戦後、連合軍に占領されていた日本が独立を回復したあともアメリカに統治されていた沖縄が、本土に復帰して（②）周年の記念式典が行われました。

先生：そうです。去年は、沖縄にとって節目の年でした。本土に復帰するときに沖縄の人々はアメリカ軍の基地が少なくなることを期待していたのですが、基地はあまり減らされることはなかったのです。

Cさん：7月に a 参議院議員の b 選挙があつて、長野県では一人が当選したことを覚えています。

Dさん：そういえば、10月になくなったプロレスラーのアントニオ猪木さんも参議院議員になったことがあつたそうです。お父さんはプロレスファンなのでとても残念がっていました。

Eさん：私は、9月に c イギリス国王のエリザベス女王が亡くなり、国葬が行われたことが強く印象に残っています。テレビの映像を見て、エリザベス女王は国民から慕われていたのだなと思いました。

先生：日本からは、d 天皇皇后両陛下が出席されましたね。日本でも安倍晋三元 e 首相の国葬がありました。ほかにはどうですか。

Fさん：ぼくは、去年の秋以降、北朝鮮がミサイルを何回か発射して、日本列島を越えて太平洋まで飛んだことをよく覚えています。日本や世界の平和がおびやかされていることが心配です。

Gさん：平和といえは、ロシアがウクライナに侵攻したことは、とてもショックでし

た。先生、世界の平和と安全を守るための f 国際組織 がありますが、北朝鮮やウクライナの問題は、この組織では解決できないのですか。

先生：いいことに気づきましたね。その組織の仕組みの中で難しい問題があり、すぐには解決できないのが現状ですね。

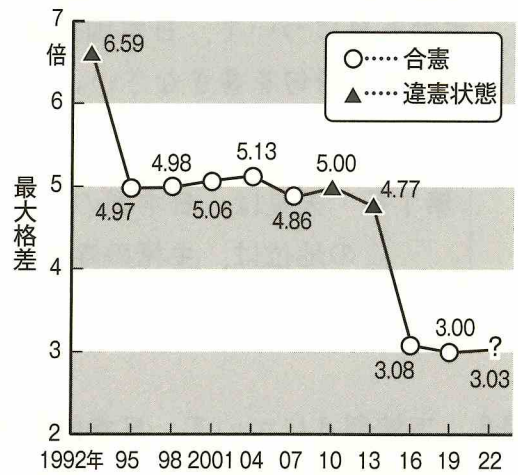
Hさん：Cさんが言った7月の参議院議員選挙のことで、11月に仙台の高等裁判所が g 「一票の格差」 が3倍もあるのは憲法違反だ、という判決を出した記事を新聞で読みました。

先生：Hさんは、よく新聞を読んでいてすごいですね。これは、東北地方の有権者が起こした裁判に対しての判決で、投票の価値が等しくなるように国会に求めたものです。ここに示した グラフ を見るとわかるように、「一票の格差」については今までもいくつかの裁判が起こされていて、そのつど裁判所が判断してきていました。

みなさんは、社会の動きにとっても関心を持っていることがわかりました。中学校に進学してからも、世の中のできごとに関心を持ち続けてほしいと思います。

グラフ

参院選「一票の格差」と最高裁判断



(日本経済新聞より)

問1 会話文中の (①) に共通してあてはまる語句として正しいものを、次のア～エから1つ選び、その記号を書きなさい。

〔ア 国民審査 イ 司法審査 ウ 国民投票 エ 住民投票〕

問2 会話文中の (②) にあてはまる数字を書きなさい。

問3 下線部 a について述べた文として正しいものを、次のア～エから1つ選び、その記号を書きなさい。

〔ア 議員の任期は4年で、解散はない。 イ 議員の任期は4年で、解散がある。〕
〔ウ 議員の任期は6年で、解散はない。 エ 議員の任期は6年で、解散がある。〕

問4 下線部 b について、国民が選挙を通して政治に参加することは、日本国憲法の三原則の一つにもとづいています。その原則を漢字4字で書きなさい。

問5 下線部 c について、イギリスでは「王は君臨^{くんりん}すれども統治せず（国王はいるけれども政治権力は持っていない）」という伝統があります。それと同じような意味で、日本の天皇について、日本国憲法は次のように定めています。（ ）に共通してあてはまる語句を書きなさい。

第1条 天皇は、日本国の（ ）であり日本国民統合の（ ）であつて、この地位は、主権の存する日本国民の総意に基く。

問6 下線部 d について、日本国憲法は、天皇が内閣の助言と承認により、国民のために右の資料のようなことができる定めています。このような行為^{こうい}を何というか、書きなさい。

資料

- ・国会を召集^{しょうしゅう}すること。
 - ・衆議院を解散すること。
 - ・文化勲章^{くんしやう}などを授与^{じゅよ}すること。
 - ・外国の大使^{むか}などを迎えること。
- など

問7 下線部 e について、内閣総理大臣（首相）の選ばれ方の説明として正しいものを、次のア～エから1つ選び、その記号を書きなさい。

- ア 国民（満18歳^{さい}以上の有権者）による選挙で選ばれ、国会によって承認される。
- イ 国民（満18歳以上の有権者）による選挙で選ばれ、国会によって任命される。
- ウ 国会議員の中から国会の議決で指名され、天皇によって承認される。
- エ 国会議員の中から国会の議決で指名され、天皇によって任命される。

問8 下線部 f について、世界の平和と安全を守り、人々の暮らしをよりよいものにするために、第二次世界大戦後につくられた国際組織を何といいますか。その正式名称^{めいしやう}を書きなさい。

問9 下線部gについて、あとの各問いに答えなさい。

- ① 会話文中で先生が示したグラフからわかることとして最も適切なものを、次のア～エから1つ選び、その記号を書きなさい。

- ア 参議院議員選挙の「一票の格差」についての最高裁判所の判断には、「合憲」と「違憲状態」がほぼ同数見られる。
- イ 参議院議員選挙の「一票の格差」についての最高裁判所の判断は、5倍以上の格差がある場合は、常に「違憲状態」となっている。
- ウ 参議院議員選挙の「一票の格差」についての最高裁判所の判断には、「合憲」と「違憲状態」との間に明確な基準は見られない。
- エ 参議院議員選挙の「一票の格差」についての最高裁判所の判断は、1995年以降、常に「合憲」となっている。

- ② 「一票の格差」の内容として最も適切なものを、次のア～エから1つ選び、その記号を書きなさい。

- ア 有権者が多い選挙区ほど一票の価値が大きくなり、有権者が少ないほど価値は小さくなる。
- イ 有権者が多い選挙区ほど一票の価値は小さくなり、有権者が少ないほど価値は大きくなる。
- ウ 投票率が高い選挙区ほど一票の価値が大きくなり、投票率が低いほど価値は小さくなる。
- エ 投票率が高い選挙区ほど一票の価値は小さくなり、投票率が低いほど価値は大きくなる。